



حصة
متزامنة

مضاعفة العدد
المكون من رقمين

اعداد:- معلمات المجال الثاني

الأهداف التعليمية

2Nn6- يعرف ما يمثل كل رقم في الأعداد المولفة من رقمين ويجزئها الى احاد وعشرات

2Nn20- يجد أضعاف مضاعفات ل5 حتى ضعف ال50 وكذلك أنصافها

2Nc21- يضاعف الأعداد المولفة من رقمين

2Pt2- شرح طرق وتفسيرات الحل شفويًا.

2Pt3- يستكشف المسائل العددية والألغاز.

استطيع أن :-

- استطيع أن أجزئ (اقسم) الأعداد المكونة من رقمين الى احاد وعشرات



استطيع أن اضاعف الأعداد حتى 50



- استطيع أن أجد أنصاف المضاعفات من 10 حتى 100



التعلم القبلي

هيا نسترجع معا اضعاف الأرقام من 1 - 5 من خلال استراتيجية ربطة الحذاء

<https://www.liveworksheets.com/og1466825ja>



التمهيد

شاهد يا بطل هذا المقطع للتعرف على مفهوم الضعف

<https://getsnap.link/4HopPfwdS8f>

almanani.com/om



سير الدرس

من خلال مقطع الفيديو تبين لنا ان:-

مفهوم الضعف هو تكرار العدد مرتان

فمثلا ضعف 5 هو $10 = 5 + 5$

ولكن اذا أردنا مضاعفة أي رقم باستخدام بطاقات الاحاد نجد ان

ضعف 3 هو 6



أما مضاعفة بطاقات العشرات

ضعف 40 هو 80





ولكن اذا اردنا مضاعفة عدد مكون من رقمين ماذا سوف نفعل؟

اذا اردنا مضاعفة عدد من رقمين نجزئ العدد الى احاد وعشرات ثم نوجد ضعف كل جزء ونجمع العددين

مثال:- اوجد ضعف العدد 24


يكتب العدد 24 هكذا $20 + 4$



ضعف




ضعف



+



=



ضعف

اوجد ضعف العدد 43

43

4

3

عشرات

آحاد

تذكر أن :

ضعف ال 3 = 6

وضعف 4 عشرات (40)

هو 8 عشرات = 80

ضعف العدد

$86 = 80 + 6 = 43$

تمرين 1

اوجد ضعف الاعداد التالية

35، 21

باستخدام التجزئة الى اعداد وعشرات



أي منهما اجابته صحيحه
ركز ثم وضح اجابتك بمثال

التقويم التكويني

هل تستطيع يا عبثري إيجاد ضعف
العدد 57 والعدد 49 ؟

almanah.com/lom

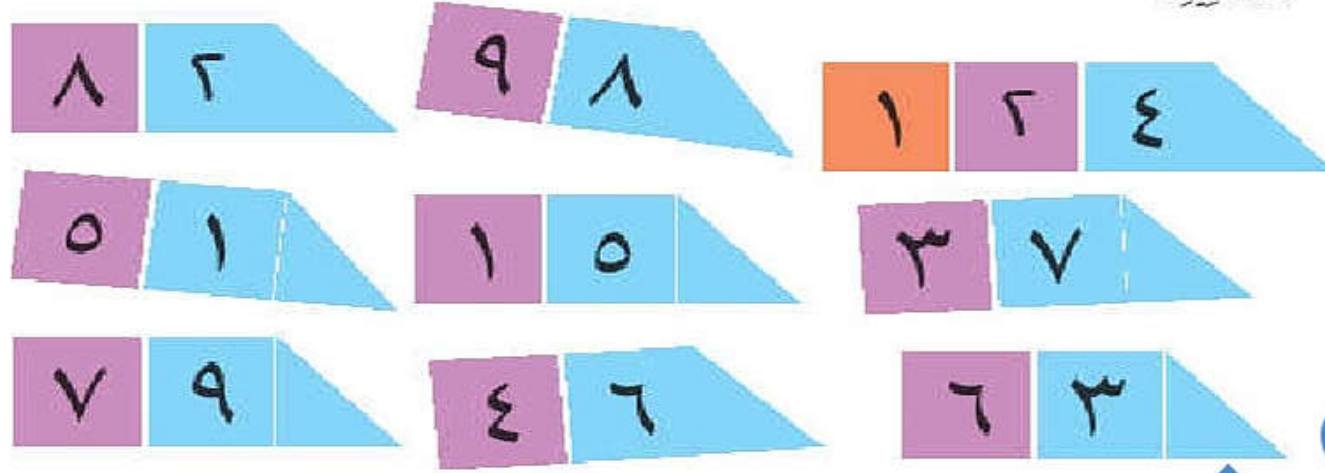
تفريد التعلم

****** في موسم انتاج ثمرة الطماطم انتجت مزرعة حامد 35 كيلو من الطماط في العام الماضي اما في هذا العام انتجت ضعف ما انتجته العام الماضي... ما هو انتاج المزرعة من الطماطم هذا العام؟

***** ما هو ضعف العدد 33؟

أيُّ ضعيفٍ؟

قامت مجموعة من التلاميذ بصنع الأعداد أدناه مستخدمين مجموعة من بطاقات القيمة المكانية.



ثم قاموا بمضاعفة كل عدد.

108 92 164
151 126 102
735 248
30 196 74

جد ضعف كل عدد أولاً،
ومن ثم طبقه مع الأعداد
المكتوبة.



(١) قم بمطابقة الأعداد من ضلعها مستخدماً بطاقات القيمة المكانية.

(٢) استخدم بطاقات القيمة المكانية واكتب أعدادك الخاصة. ثم ضاعفها.

تأكد من أن كل ضعف يتناسب عدده.

هيا يا عبقرى
افتح كتاب التلميذ
صفحة 24




اخلاق الدرس

<https://www.liveworksheets.com/em1466402me>

almanahj.com/lom



عند مضاعفة عدد من رقمين نجزئه الى
احاد وعشرات ثم نوجد ضعف كل منهما
ونجمعهما



عند مضاعفة عدد من رقمين سواء
كان العدد فرديا ام زوجيا يكون
النتج دائما عدد زوجي

Story Recorded By: _____

Question Where? _____ When? _____

واجب المنزلي

قم بكتابة عمر أحد والديك
ثم اوجد ضعفه؟

The best thing about memories is making them.

Response